



Bài 35

ÔN TẬP ĐO LƯỜNG



Khởi động



Bóng

Bay

Thông

Thái

???



Cách chơi:

- Để giúp cậu bé tìm hiểu những kiến thức đã bị mất. Các em hãy chọn quả bóng bay chứa đáp án đúng của mỗi câu hỏi.
- Trả lời đúng bóng bay sẽ tự động điền đáp án đúng lên ô. Cậu bé sẽ học lại được kiến thức đã bị mất.
- Trả lời sai bóng bay sẽ biến mất. Và đồng nghĩa cậu bé sẽ bị mất đi tri thức đó



18

+

18

=

???



Câu Tiếp

36

26

25

35

25

-

18

=

???



Câu Tiếp

6

7

8

9

33

-

17

=

???



Câu Tiếp

14

15

16


18




Bài 35: Ôn tập đo lường



Tiết 1





luyện tập

1 Đ, S ?

a) Gấu bông nặng hơn thỏ bông.

Đ

b) Thỏ bông nhẹ hơn sóc bông.

S

c) Sóc bông nhẹ hơn gấu bông.

Đ



2 Tính.

$$19 \text{ kg} + 25 \text{ kg}$$

$$63 \text{ kg} - 28 \text{ kg}$$

$$35 \text{ kg} + 28 \text{ kg}$$

$$44 \text{ kg} - 25 \text{ kg}$$

$$44 \text{ kg} - 19 \text{ kg}$$

$$63 \text{ kg} - 35 \text{ kg}$$

$$19 \text{ kg} + 25 \text{ kg} = 44 \text{ kg}$$

$$63 \text{ kg} - 28 \text{ kg} = 35 \text{ kg}$$

$$35 \text{ kg} + 28 \text{ kg} = 63 \text{ kg}$$

$$44 \text{ kg} - 25 \text{ kg} = 19 \text{ kg}$$

$$44 \text{ kg} + 19 \text{ kg} = 63 \text{ kg}$$

$$63 \text{ kg} - 35 \text{ kg} = 28 \text{ kg}$$

3 Số ?

a)



1 kg + **2** kg = **3** kg
Con thỏ cân nặng **3** kg.

b)



5 kg - **1** kg = **4** kg
Túi gạo cân nặng **4** kg.

4. Mẹ mua con lợn nặng 25 kg về nuôi. Sau một thời gian con lợn tăng thêm 18 kg. Hỏi lúc này con lợn nặng bao nhiêu ki-lô-gam?

Bài giải

Lúc này con lợn nặng là:

$$25+18= 43(\text{kg})$$


Đáp số: 43 kg

- 5** Có ba con dê cân nặng 14 kg, 18 kg, 16 kg muốn sang sông để ăn cỏ. Rô-bốt nói: "Thuyền chỉ chở thêm được nhiều nhất là 31 kg". Hỏi hai con dê nào có thể cùng nhau sang sông?



Con dê 14kg và 16kg có thể cùng nhau sang sông
Vì $14 + 16 = 30$ kg

Tiết 2



Bài 1 Số? (trang 133 SGK)

Có hai bình chứa đầy nước. Bạn Mai đã rót hết nước ở bình A sang đầy các ca 1 lít thì được 8 ca, rót hết nước ở bình B sang đầy các ca 1 lít thì được 5 ca.

- a) - Bình A chứa được ... lít nước.
- Bình B chứa được ... lít nước.
- b) Cả hai bình chứa được ... lít nước.



- a) - Bình A chứa được **8** lít nước.
- Bình B chứa được **5** lít nước.
- b) Cả hai bình chứa được: **$8 + 5 = 13$ (lít)**
Cả hai bình chứa được **13** lít nước.

Bài 2 Tính. (trang 134)

a) $25\text{ l} + 8\text{ l}$

$33\text{ l} - 8\text{ l}$

$33\text{ l} - 25\text{ l}$

b) $15\text{ l} + 8\text{ l} + 30\text{ l}$

$44\text{ l} + 19\text{ l}$

$63\text{ l} - 44\text{ l}$

$63\text{ l} - 19\text{ l}$

$42\text{ l} - 7\text{ l} + 16\text{ l}$

a) $25\text{ l} + 8\text{ l} = 33\text{ l}$

$33\text{ l} - 8\text{ l} = 25\text{ l}$

$33\text{ l} - 25\text{ l} = 8\text{ l}$

b) $15\text{ l} + 8\text{ l} + 30\text{ l}$

$= 23\text{ l} + 30\text{ l}$

$= 53\text{ l}$

$44\text{ l} + 19\text{ l} = 63\text{ l}$

$63\text{ l} - 44\text{ l} = 19\text{ l}$

$63\text{ l} - 19\text{ l} = 44\text{ l}$

$42\text{ l} - 7\text{ l} + 16\text{ l}$

$= 35\text{ l} + 16\text{ l}$

$= 51\text{ l}$

Bài 3 Chọn câu trả lời đúng. (trang 134)

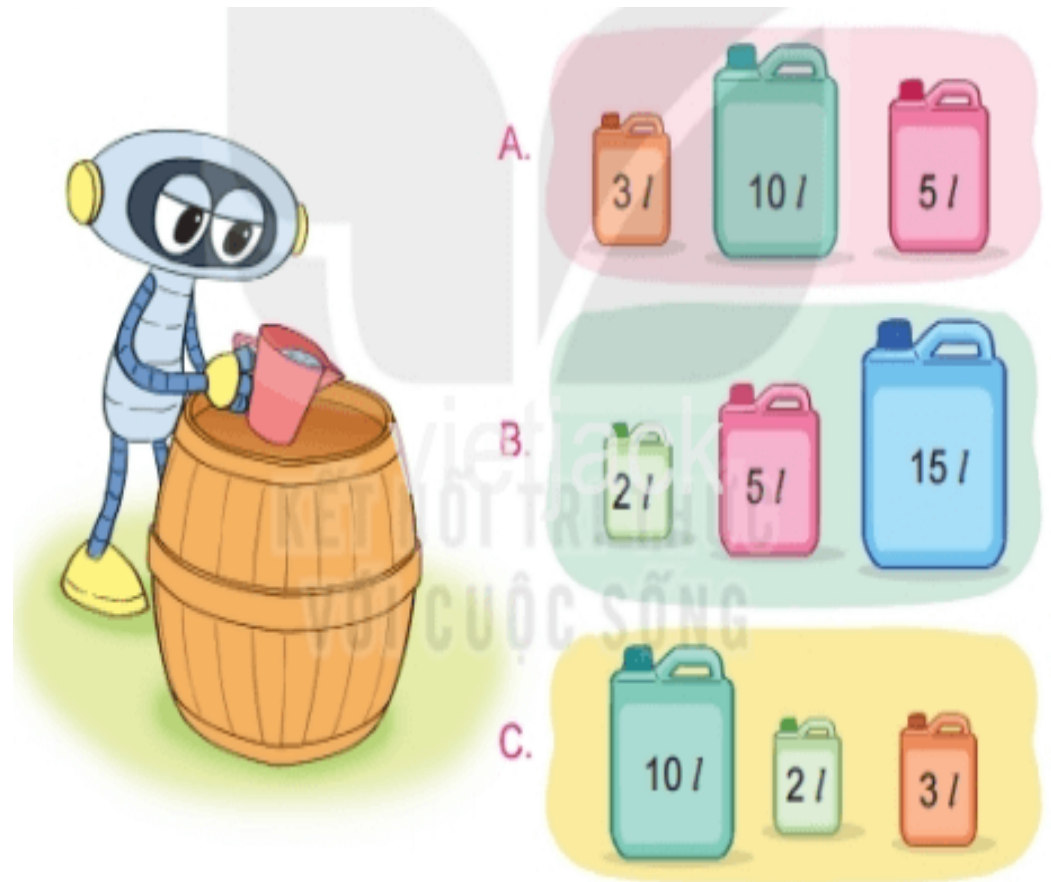
Trong thùng có 15 lít nước. Múc hết nước từ thùng rót đầy vào các can. Có thể rót vào đầy ba can nào trong các phương án sau?

Ta có:

A. $3\text{ l} + 10\text{ l} + 5\text{ l} = 18\text{ l}$

B. $2\text{ l} + 5\text{ l} + 15\text{ l} = 22\text{ l}$

C. $10\text{ l} + 2\text{ l} + 3\text{ l} = 15\text{ l}$



Bài 4 (trang 134 SGK)

Giải bài toán theo tóm tắt sau:

Tóm tắt

Có : 18 thùng nước mắm

Thêm : 4 thùng nước mắm

Có tất cả : ... thùng nước mắm?




Bài giải

Có tất cả số thùng nước mắm là:

$$18 + 4 = 22 \text{ (thùng nước mắm)}$$

Đáp số : 22 thùng nước mắm



Chúc các thầy cô mạnh khỏe

Chúc các em chăm ngoan

